

English

1. Match the pictures with the words

(1x10=10)



Cat



Cap




Car



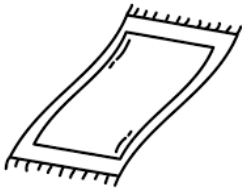
Pan



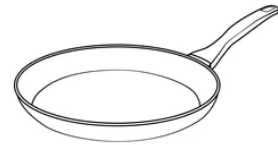
Pen




Mat



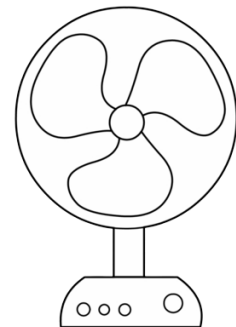
Hat



Bag



Van



Fan

2. Fill in the blanks with "A" or "An" .

1x5=5

a _____ can.

b _____ axe.

c. _____ Umbrella.

d. _____ tap.

e. _____ orange.

3. Tick (✓) the correct answer.

1x5=5

a. ((This/that) is a hut



b. (This/that) is a tree



c. (These/Those) are oranges



d. (This/that) is a pot



e. (This/these) are pens



4. Circle all the vowels.

5

b e g f

i t a s

u c v o

5. write one or many in the given blanks.

1x5=5

a.



b.




c.



d.

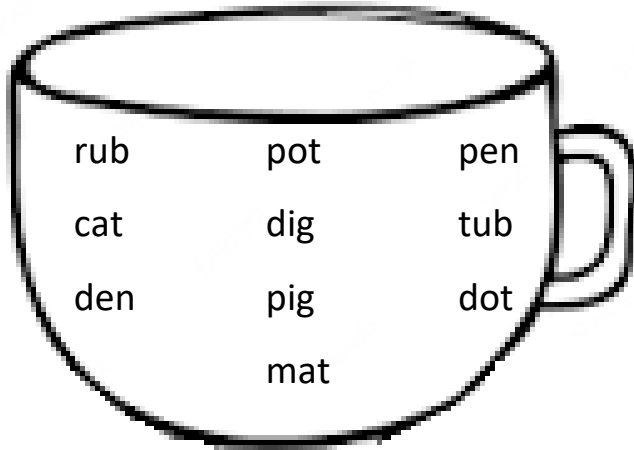


e.



6. Choose and write the correct rhyming words.

(5x2=10)



Cub _____

bat _____

cot _____

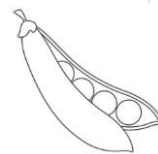
hen _____

big _____

7. complete the words.

(1x5=5)

a. P ___d



b. B ___ t


c. T ___ n

d. L ___ g

e. S ___ n



10




8. Write is or are in the blanks.

(1x5=5)

a. The apple _____ red




b. The kites _____ in the sky



c. The rose _____ pink



d. The birds _____ small



e. The mangoes _____ green



Mathematics

9. লুপ্ত সংখ্যা গুলি লিখো।

1x5=5

a. ২৩ _____ ২৫

d. ৪৮ _____ ৫০

b. ৩৮ _____ ৪০

e. ১৫ _____ ১৭

c. ৭৯ _____ ৮১

10. সংখ্যা গুলিকে অক্ষরে লিখো।

1x5=5

a. ২৫ =

b. ৪৩ =

c. ১৯ =

d. ৫০ =

e. ৮৫ =

11. ছোট সংখ্যাটিতে গোল চিহ্ন দাও-

1x5=5

a. ৫৭ ৭৫

b. ৮৬ ৬৮

c. ৮৯ ৯১

d. ৭২ ৬৭

e. ২২ ১৪

12. সঠিক চিহ্ন ব্যবহার করুন >, < অথবা =

1x5=5

a. ৭ _____ ২৭

d. ৯০ _____ ৯০

b. ৩৮ _____ ২০

e. ৮৬ _____ ৯৬

c. ৬২ _____ ৬৯

13. যোগ করো-

1x5=5

a. ৬ + ৩ =

b. ৪ + ৫ =


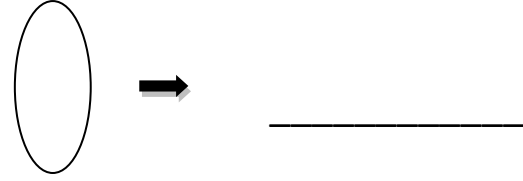
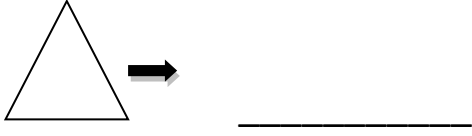
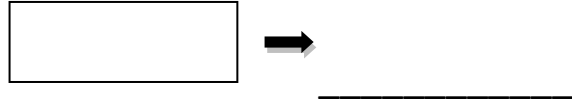
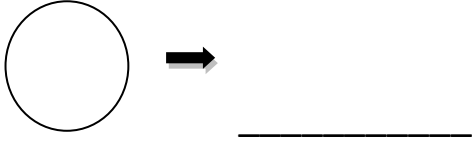
c. ৫ + ৫ =

d. ৯ + ০ =

d. ৫ + ৩ =

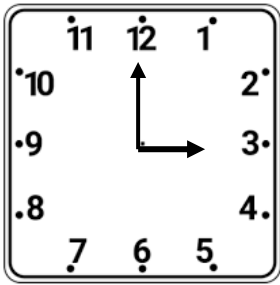
14. নিচের আকৃতি গুলির নাম লিখো-

1x5=5




15. ছোট কাটাটি দেখে সময় লিখো -


1x5=5



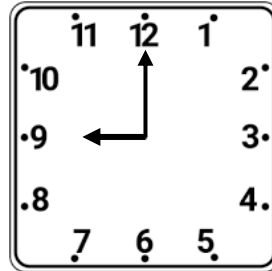
_____ ঘটিকা



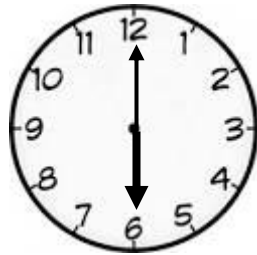
_____ ঘটিকা



_____ ঘটিকা



_____ ঘটিকা



_____ ঘটিকা

16. আগের সংখ্যাটি কি ?

1x5=5

a. _____ ২৮

d. _____ ৪০

b. _____ ৭৯

e. _____ ১০০

c. _____ ৮০

17. বিয়োগ করো-

1x5=5

a. ৮ - ৪ =

b. ৬-১ =

c. ৯ - ২ =

d. ৪ - ৩ =

e. ৫ - ৫ =

18. গণনা করে সংখ্যাটি লিখো-

1x5=5

